



MUNICÍPIO DA ESTÂNCIA BALNEÁRIA DE PRAIA GRANDE

Estado de São Paulo
SEDUC - Secretaria de Educação

SEMANAS 29 e 30




PONTE DO SABER

4º ano do Ensino Fundamental



Vamos
Recordar?

A tabela a seguir mostra a quantidade em quilogramas, de frutas que João vendeu em sua banca.

DIAS DA SEMANA				TOTAL
QUINTA-FEIRA	04	29	32	65
SEXTA-FEIRA	16	09	25	50
SÁBADO	09	03	10	22
DOMINGO	10	25	35	70

1- Assinale a alternativa que apresenta o dia da semana que João vendeu mais frutas.

- (A) Sexta-feira.
- (B) Domingo.
- (C) Quinta-feira.
- (D) Sábado.

2- Qual a diferença entre o total das frutas vendidas no sábado e no domingo?

- (A) 65 frutas.
- (B) 92 frutas.
- (C) 48 frutas.
- (D) 54 frutas.

3- Observe a propaganda a seguir:



Qual a diferença entre o preço da geladeira y e o preço da geladeira x?

Assinale a alternativa correta:

- (A) 400 reais.
- (B) 1.300 reais.
- (C) 600 reais.
- (D) 3.598 reais.

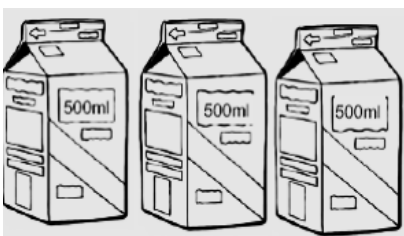
Disponível em: <<http://www.buscape.com.br/refrigerador-brastemp-clean-brm39-352-litros-ino>>. Acesso em: 17 mar. 2016.

- 4- Com uma lata de leite condensado, Letícia faz 45 brigadeiros. Calcule quantos brigadeiros Letícia fará utilizando 2 latas de leite condensado.
- (A) 45 brigadeiros.
(B) 54 brigadeiros.
(C) 30 brigadeiros.
(D) 90 brigadeiros.
- 5- Letícia tem R\$ 10,00 e comprou uma lata de leite condensado por R\$ 4,50. Assinale a alternativa correta do troco recebido por Letícia.
- (A) R\$ 5,50.
(B) R\$ 4,00.
(C) R\$ 14,00.
(D) R\$ 10,00.
- 6- Letícia é 4 anos mais velha que sua irmã. Se a irmã de Letícia tem 18 anos, assinale a alternativa que corresponde a idade de Letícia.
- (A) 14 anos.
(B) 22 anos.
(C) 72 anos.
(D) 25 anos.
- 7- Em um jogo, João perdeu 19 figurinhas. Ele terminou esse jogo com 58 figurinhas. Quantas figurinhas ele possuía no início do jogo?
- (A) 19 figurinhas.
(B) 39 figurinhas.
(C) 58 figurinhas.
(D) 77 figurinhas.
- 8- Anna ganhou de sua madrinha a quantia representada pelas notas abaixo e trocou por moedas de R\$ 1,00 para colocar em seu cofrinho.



Assinale a alternativa que representa o total de moedas que Anna obteve.

- (A) 5 moedas.
(B) 19 moedas.
(C) 14 moedas.
(D) 10 moedas.
- 9- Larissa comprou 3 caixas de leite de meio litro cada uma, conforme a ilustração a seguir:



Assinale a alternativa que corresponde ao total de litros de leite que Larissa comprou:

- (A) 15 ml. (B) 150 ml. (C) 500 ml. (D) 1500 ml.